


Le triangle

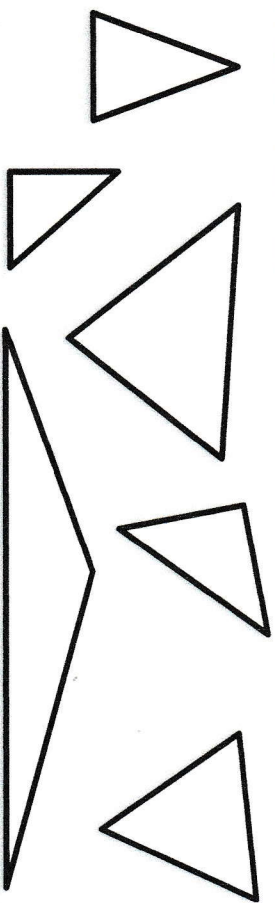
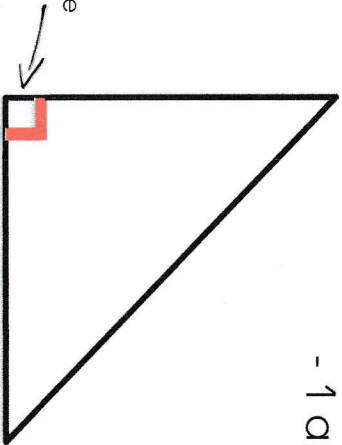
Un triangle a 3 côtés.



Un triangle rectangle a : - 3 côtés

- 1 angle droit

Le triangle-rectangle
a un angle droit.



Les polygones particuliers


Pour t'entraîner à la maison : réponds
aux questions :

A quoi reconnaît-on un carré ?

A quoi reconnaît-on un rectangle ?

A quoi reconnaît-on un triangle ?

A quoi reconnaît-on un triangle rectangle ?



Pour t'entraîner à la maison : retrouve les carrés, les rectangles, les triangles et triangles rectangles.

