

Exercices de remédiation

A) Complète les additions :

$6 + 6 = \dots\dots\dots$	$8 + 7 = \dots\dots\dots$	$9 + 9 = \dots\dots\dots$	$6 + 5 = \dots\dots\dots$
$8 + 9 = \dots\dots\dots$	$7 + 7 = \dots\dots\dots$	$4 + 6 = \dots\dots\dots$	$7 + 8 = \dots\dots\dots$
$6 + 4 = \dots\dots\dots$	$6 + 7 = \dots\dots\dots$	$3 + 4 = \dots\dots\dots$	$9 + 8 = \dots\dots\dots$

B) Entoure le plus petit des deux nombres :



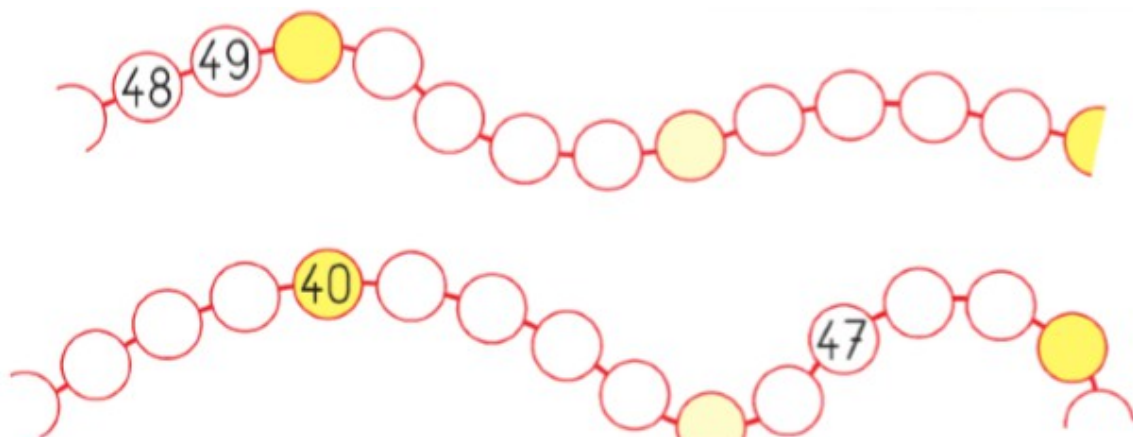
C) Complète avec les signes < ou > :

$28 \dots\dots 32$	$70 \dots\dots 59$	$45 \dots\dots 54$
$72 \dots\dots 27$	$60 \dots\dots 16$	$91 \dots\dots 72$
$7 \dots\dots 70$	$71 \dots\dots 17$	$50 \dots\dots 60$


D) Colorie les 5 nombres qui se suivent :



E) Ecris tous les nombres qui manquent :



F) Entoure le personnage qui a exactement 12 crayons :




G) Entoure les boîtes que doit à choisir Zoé pour avoir 17 crayons :

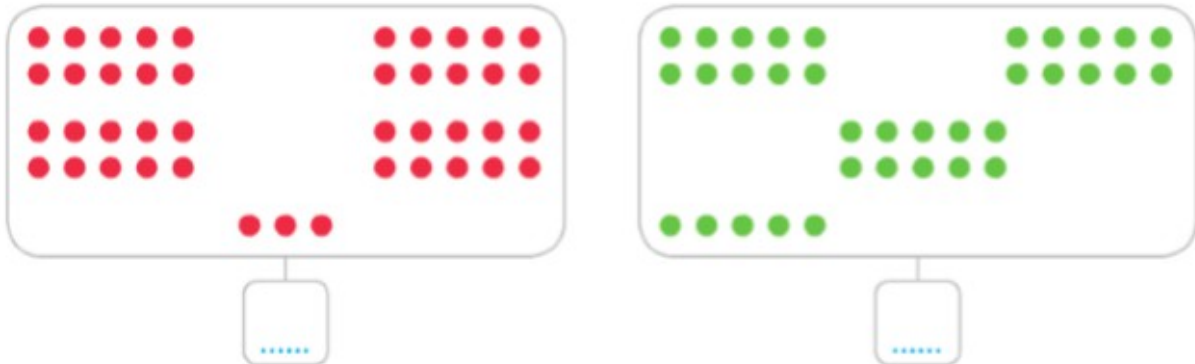


H) Complète :


- Je pars de 8, j'avance de 4, j'arrive à
- Je pars de 10, je recule de 3, j'arrive à
- Pour aller de 5 à 9, il faut avance de
- Pour aller de 10 à 1, il faut reculer de



I) Ecris le nombre de points de chaque carte :



J) Ecris le nombre de timbres d'Arthur et Zoé :



K) Ecris combien Gribouille a d'os :

